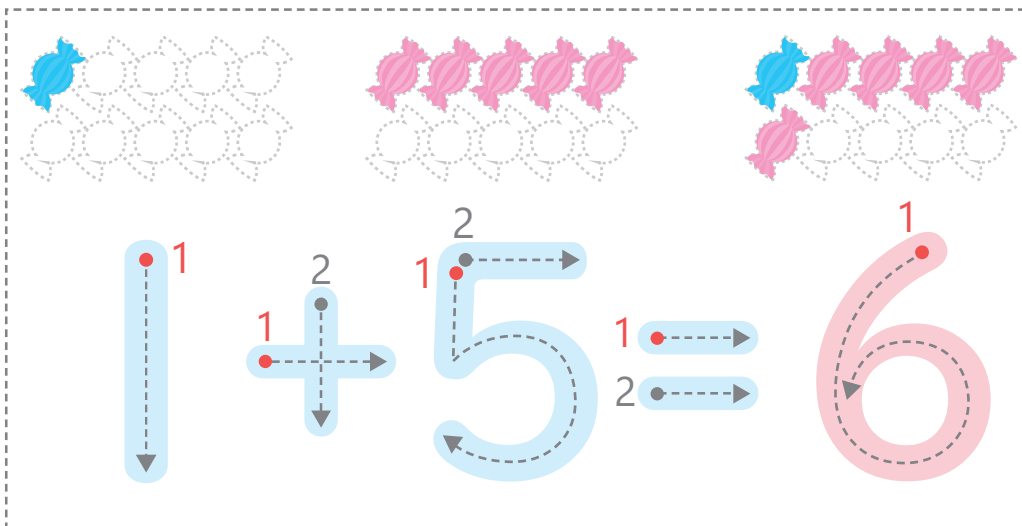
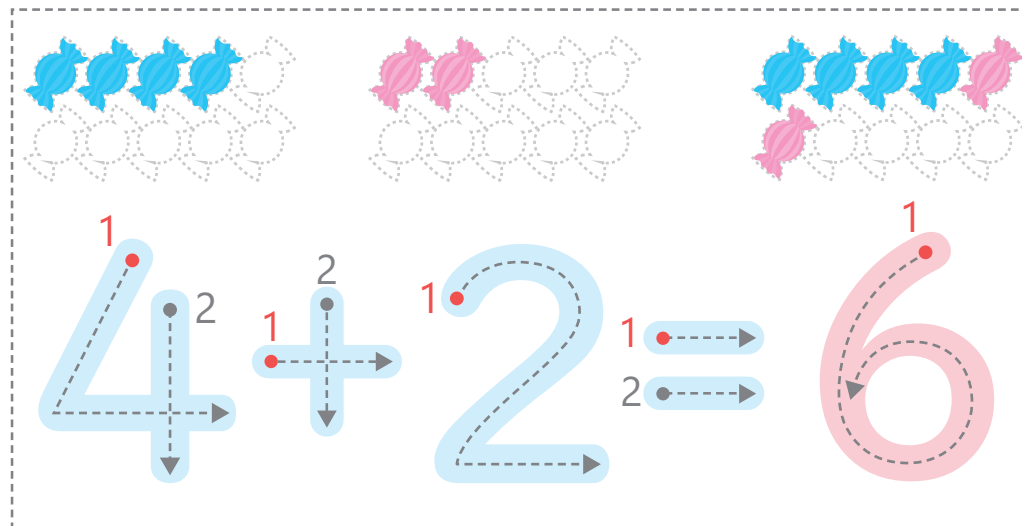


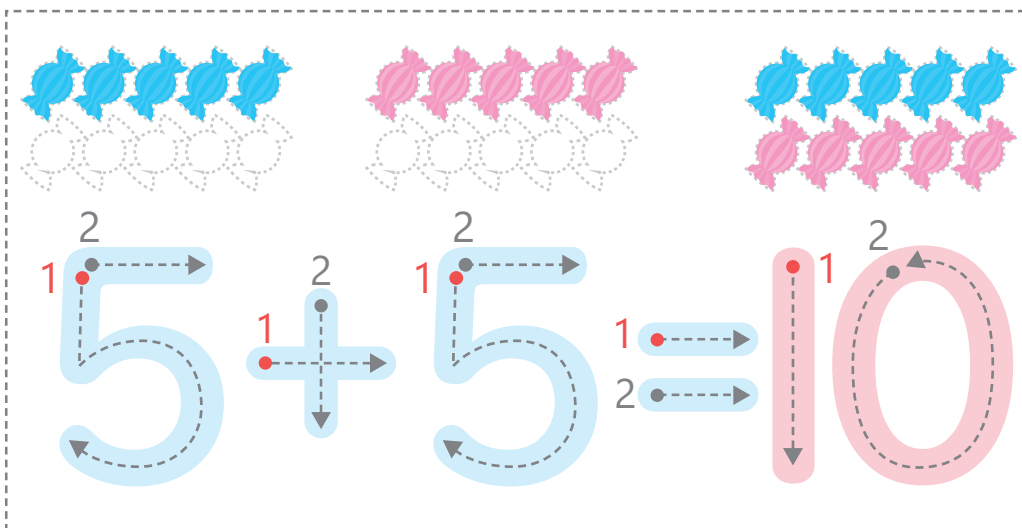
たしざんを なぞって こたえをかきましょう。アメにもいろをぬりましょう。



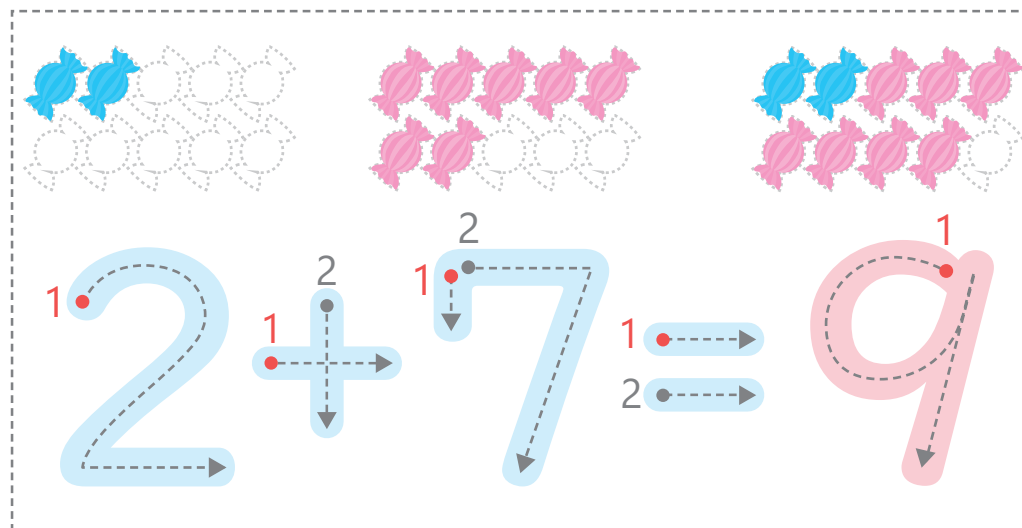
このブロックには、アメの塗り絵と数字6の書き方の練習が含まれています。アメは2列に分かれています：上列は1個の青いアメと9個の白いアメ、下列は5個のピンクアメと5個の白いアメ。数字6の形成は、数字1（縦線）、数字4（横線と縦線）、数字5（横線、縦線、カーブ）の順に足して行われます。最終的な数字6は、数字1（カーブ）と数字2（横線と縦線）の和として示されています。



このブロックには、アメの塗り絵と数字6の書き方の練習が含まれています。アメは2列に分かれています：上列は4個の青いアメと4個の白いアメ、下列は2個のピンクアメと6個の白いアメ。数字6の形成は、数字4（斜線、縦線、横線）、数字4（横線と縦線）、数字2（カーブと横線）の順に足して行われます。最終的な数字6は、数字1（カーブ）と数字2（横線と縦線）の和として示されています。



このブロックには、アメの塗り絵と数字10の書き方の練習が含まれています。アメは2列に分かれています：上列は5個の青いアメと5個の白いアメ、下列は5個の青いアメと5個のピンクアメ。数字10の形成は、数字5（横線、縦線、カーブ）、数字4（横線と縦線）、数字5（横線、縦線、カーブ）の順に足して行われます。最終的な数字10は、数字1（縦線）と数字0（カーブと縦線）の和として示されています。



このブロックには、アメの塗り絵と数字9の書き方の練習が含まれています。アメは2列に分かれています：上列は3個の青いアメと3個の白いアメ、下列は5個のピンクアメと4個の白いアメ。数字9の形成は、数字2（カーブと横線）、数字4（横線と縦線）、数字7（横線、縦線、斜線）の順に足して行われます。最終的な数字9は、数字1（カーブ）と数字8（横線、縦線、カーブ）の和として示されています。